




Să numărăm **1 2 3 4 5 6**

LEBRIS

We know books

Numără obiectele din fiecare chenar.
Scrie cifra în spațiul de mai jos.



Să numărăm 7 8 9 10 11 12

LEBRIS

We know books

Numără obiectele din fiecare chenar.

Scrie numărul în spațiul de mai jos.















Pune ✓ în chenarul care are cele mai puține obiecte.

